

**МІНІСТЕРСТВО ОСВІТИ І НАУКИ УКРАЇНИ**

**ХАРКІВСЬКИЙ НАЦІОНАЛЬНИЙ ЕКОНОМІЧНИЙ УНІВЕРСИТЕТ  
ІМЕНІ СЕМЕНА КУЗНЕЦЯ**

**Збірник текстів  
та практичних завдань  
"Регіони Франції: сутність та галузева спеціалізація"  
з навчальної дисципліни  
"ДІЛОВА ІНОЗЕМНА МОВА"  
для студентів галузі знань  
0305 "Економіка та підприємництво"  
всіх форм навчання**

**Харків. ХНЕУ ім. С. Кузнеця, 2015**

Затверджено на засіданні кафедри іноземних мов та перекладу.  
Протокол № 9 від 26.03.2015 р.

*Самостійне електронне текстове мережне видання*

**Укладач** Хоменко В. В.

3-41        Збірник текстів та практичних завдань "Регіони Франції: сутність та галузева спеціалізація" з навчальної дисципліни "Ділова іноземна мова" для студентів галузі знань 0305 "Економіка та підприємництво" всіх форм навчання : [Електронне видання] / уклад. В. В. Хоменко. – Х. : ХНЕУ ім. С. Кузнеця, 2015. – 39 с. (Укр. мов., фр. мов.)

Наведено тексти і завдання, які сприятимуть поглибленню знань студентів з країнознавства Франції.

Рекомендовано для студентів галузі знань 0305 "Економіка та підприємництво" всіх форм навчання.

## Вступ

На сучасному етапі широкі міжкультурні взаємовідносини, дуже велика кількість іншомовних джерел, радіо, мережа Інтернет, телебачення допомагають нам поринути у безмежний простір вивчення іноземної мови, та водночас і культури країни. Викладач має змогу дуже вдало поєднувати елементи країнознавства з явищами мови, що вивчається.

Такий підхід безперечно сприяє підвищенню пізнавальної активності студентів. Адже вдале поєднання навчального та пізнавального аспектів під час вивчення іноземної мови є засобом збагачення духовного світу особистості, та залучення студентів до діалогу культур, а також сприяння розвитку інтересу до вивчення іноземної мови.

У запропонованій роботі базовий текст, що відображує специфічні риси регіонів Франції, супроводжується низкою завдань.

Запропоновані тексти підібрано з урахуванням їх пізнавальної цінності та актуальності.

Матеріал може бути використаний під час аудиторних занять, а також як основа для самостійної роботи студентів.

## Unite 1

### Présentation générale de la France

**Activité 1. Lisez le texte. Après l'avoir lu rédigez son plan. Notez les mots-clés qui aident à mieux comprendre les détails.**

Avant la Révolution française (1789 – 1794) la France était divisée en provinces. Cette division était déterminée par les facteurs d'évolution du pays: elle était souvent liée à l'histoire du rattachement de tel ou tel territoire au royaume de France. Pour la plupart, les provinces étaient d'anciens états féodaux, duchés ou comtés.

Le roi y nommait un gouverneur pour le représenter. Ces provinces avaient des coutumes particulières, des lois différentes, et chacune d'elles constituait comme un petit pays dans le grand.

Les plus célèbres provinces étaient: l'Île de France (cap. Paris), la Normandie (cap. Caen), l'Orléanais (cap. Orléans), la Bretagne (cap. Rennes), le Poitou (cap. Poitiers), la Guyenne (cap. Bordeaux), le Languedoc (cap. Toulouse), la Provence (cap. Aix), la Bourgogne (cap. Dijon).

Après la Révolution, pour effacer cette diversité, les provinces ont été remplacées par des départements. Le 4 mars 1790 Louis XVI a signé les lettres patentes ordonnant la division de la France en 83 départements. La plupart des départements ont reçu les noms des montagnes et des fleuves.

Pendant près de deux siècles l'organisation administrative et politique de la France a été basée sur les départements.

C'est pour liquider le déséquilibre croissant entre les différentes régions et mettre un frein à la croissance de la capitale qu'on a regroupé les départements en 21, puis en 22 régions économiques.

C'est en 1972 que la Région s'est vu reconnaître la personnalité morale (juridique) comme Etablissement publique régional (EPR) dont la mission est de "contribuer au développement économique et social de la Région". La dernière grande étape de la décentralisation date de 1982, quand la Région a reçu le statut de la collectivité locale.

Aujourd'hui la France compte 22 régions en France métropolitaine et 4 régions d'outre-mer (les départements qui ont un statut de régions: la Guadeloupe, la Martinique, la Réunion et la Guyane française).

En termes généraux une région (lat. régio, de regere "diriger") est une partie du territoire comportant des caractères particuliers qui peuvent être physiques (régions naturelles: montagnes, plaines), humains (les provinces:

histoire, peuplement), économiques (activité dominante: ressources naturelles, main-d'œuvre, voie de communication).

Une région française est une division territoriale administrative englobant plusieurs départements. La France est divisée en 96 départements, y compris Paris qui a le statut d'un département. L'arrondissement est une subdivision administrative des départements et de certaines grandes villes (325).

(En 1982 la Loi de décentralisation a supprimé les préfets; ils ont été remplacés par les Commissaires de la République jusqu'à 1988.) Aujourd'hui le préfet doit coordonner l'action des services départementaux et celle des services de l'Etat. Il veille au respect des lois et dirige les services extérieurs de l'Etat (sauf l'enseignement et le trésor).

Certaines villes ou régions sont aujourd'hui spécialisées: Toulouse dans l'aviation avec Airbus et l'espace avec Ariane; Lille dans la vente par correspondance (V.P.C.); Strasbourg dans le génétique; Rennes dans les télécommunications; Grenoble et Nice dans les industries de l'intelligence. Les villes moyennes se constituent aussi en centre de développement qui regroupe des activités de recherche et des industries innovantes appelées technopoles: Béthune, Lannion, Troyes, Lorient, Agen, Auch, Pau, Nîmes, Bourg-en-Bresse.

Les régions françaises coopèrent avec d'autres régions d'Europe: 32 régions européennes dont 7 françaises sont groupées, de l'Ecosse jusqu'au Portugal, la Catalogne espagnole, la Lombardie italienne, le Bad-Wurtemberg allemand coopère avec la région Rhône-Alpes, le Nord avec la Flandre et le Kent; La Lorraine avec le Luxembourg et la Sarre; le Lyonnais avec le Piémont; le Languedoc-Roussillon avec la Catalogne. Dans ses "Lectures sur les provinces de France" G. Moget a exprimé la diversité des régions: "La Bretagne est souvent couverte de brume. C'est le pays de la mer, des ports, des plages immenses, des courageux marins et des pêcheurs. La Normandie, baigné par la Manche, est un vrai jardin. Des troupeaux et de beaux pommiers font la richesse de ce pays doux et frais. Plus au nord, sous un ciel gris commence la plaine monotone de Flandre, la région des mines et des usines.

**Activité 2. Après avoir fait l'analyse du texte proposé dans l'activité 1 répondez aux questions suivantes. Si certaines informations**

**vous manquent, consultez les sites Internet pour y trouver des réponses aux questions posées.**

1. Où est située la France sur la carte du monde?
2. Quels sont les huit pays et Etats frontaliers de la France?
3. Par quels pays est-elle limitée au Nord-Est, a l'Est, au Sud?
4. A quelle figure géométrique ressemble la France?
5. Quelle est la superficie de la France?
6. Combien d'habitants y a-t-il en France?
7. Dans quelles régions et dans quelles parties de la France trouve-t-on la majorité des habitants?
8. Dans quelle partie de la France y a-t-il relativement peu d'habitants?
9. Quelle est la capitale de la France?
10. Pourquoi dit-on que c'est un pays maritime?

## **Unite 2**

### **Les grandes dates de l'histoire des régions françaises**

**Activité 1. Lisez le texte. Après l'avoir lu rédigez son plan. Notez les mots-clés qui aident à mieux comprendre les détails.**

1956

Découpage de la France en 21 régions. Création des programmes régionaux d'aménagement du territoire.

1964

Découpage de la France en 22 régions. Mise en place des Préfets de Région. Création des Commissions de Développement Economique Régional (CODER) associant l'ensemble des partenaires socioéconomiques.

1972

La Loi du 5 juillet dote la Région d'une personnalité morale. Elle prend la forme d'un Etablissement Public Régional (EPR). Elle se voit reconnaître une mission spécial de planification et d'étude, et la vocation de participer au financement d'investissements à l'exclusion de toute tâche de gestion et d'administration. Elle vote sur les propositions du Préfet de Région, qui

ensuite, exécute les décisions. Le Conseil Régional n'a qu'un rôle consultatif. Le Préfet continue d'administrer la Région. L'EPR se compose de deux assemblées qui ont leur siège au chef-lieu de la Région. Le Conseil Régional qui est composé alors de tous les députés et sénateurs de la région (membres de droit), ainsi que les représentants désignés par les Conseils Généraux et les principales villes. Le Conseil Economique et Social qui est composé des représentants économiques et socioprofessionnels, ainsi que de personnalités qualifiées. Cette assemblée est chargée de donner des avis avant chaque réunion du Conseil Régional.

1982

La loi du 2 mars fait bénéficier les Régions des premières mesures de décentralisation. Article 59: Les régions sont des collectivités territoriales. Elles sont administrées par un conseil régional élu au suffrage universel direct. Le Conseil régional règle par ses délibérations les affaires de la région. Il a compétence pour promouvoir le développement économique, social, sanitaire, culturel et scientifique de la région et l'intégrité, de l'autonomie et des attributions des départements et des communes.

La Région est un Etablissement Public, mais désormais c'est le Président du Conseil Régional qui en est l'exécutif. C'est lui qui prépare et exécute la politique régionale. Les Régions sont autorisées à créer des services et à recruter le personnel nécessaire à leur fonctionnement.

1983

Avec les lois du 7 janvier et 22 juillet, l'Etat transfère à la Région une partie de ses compétences. La vocation de Région au service du développement économique et social est confirmée et amplifiée par un accroissement de son rôle en matière de planification, d'aménagement du territoire et de formation professionnelle.

1984

Signature du premier contrat de plan Etat-Région pour cinq ans qui définit les objectifs communs de développement et indique les moyens financiers nécessaires à leur mise en œuvre (1984 – 1989).

1986

La Région devient collectivité locale à part entière: élection des conseillers régionaux au suffrage universel pour six ans. Ils sont rééligibles. Ils sont élus dans chaque département. Leur nombre est fixé en fonction de l'importance de la population.

1989

Deuxième contrat de plan Etat-Région (1989 – 1993)

1992

Deuxième élection des conseillers régionaux au suffrage universel direct, par un scrutin de listes à la liste proportionnelle, à l'échelon départemental.

1994

Troisième contrat de plan Etat-Région (1994 – 1998).

2000

Quatrième contrat de plan Etat-Région (2000 – 2006).

**Activité 2. Après avoir fait l'analyse du texte proposé dans l'activité 1 choisissez une des périodes qui vous semble la plus significative pour l'histoire de la France. Présentez-là. Si certaines informations vous manquent, consultez les sites Internet pour y trouver des réponses aux questions posées.**

### **Unite 3**

#### **L'Alsace**

**Activité 1. Lisez le texte. Après l'avoir lu rédigez son plan. Notez les mots-clés qui aident à mieux comprendre les détails.**

*Superficie: 8 280 km<sup>2</sup>.*

*Population: 1,73 million d'habitants.*

*Densité moyenne: 209 habitants/km<sup>2</sup>.*

*Départements: 2.*

*Chef-lieu: Strasbourg.*

#### **Situation géographique**

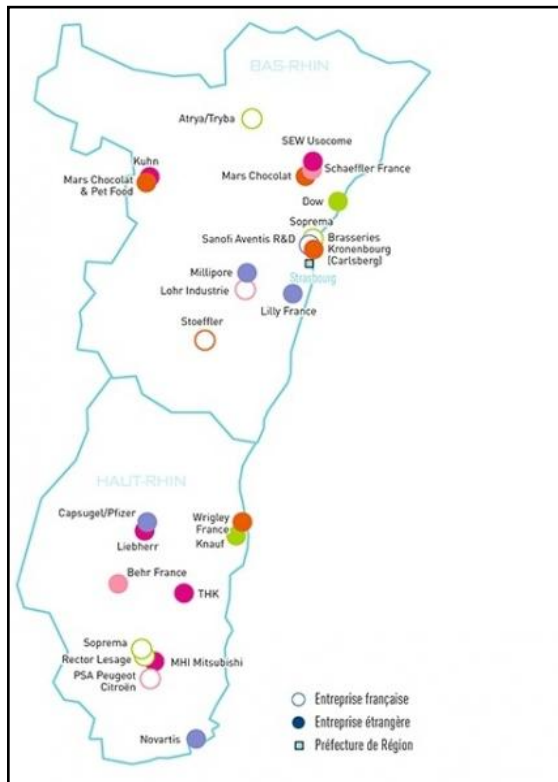
L'Alsace s'étend sur un territoire tout en longueur, orienté nord-sud, limitée à l'est par le Rhin, à l'ouest par la crête des Vosges. Malgré sa taille réduite, la région offre des paysages variés.

La plaine d'Alsace, qui couvre la moitié de la superficie, est recouverte d'alluvions: tantôt sablonneuse, avec des forêts qui reculent peu à peu devant les cultures; tantôt recouverte d'un dépôt de quartz, d'argile et de



calcaire particulièrement fertile, elle devient le domaine privilégié des cultures céréalières ou spécialisées.

À l'ouest, les coteaux calcaires, propices à la viticulture et aux cultures fruitières. Au nord-ouest, le massif vosgien: sa partie centrale, constituée de roches cristallines et où s'élèvent les principaux sommets, est entaillée de profondes vallées orientées est-ouest qui concentrent habitat et population. Le climat semi-continental alsacien, se caractérise par sa forte amplitude thermique annuelle. Les étés sont chauds, les hivers froids, avec des



précipitations faibles concentrées en été et en automne. La température moyenne estivale est plus élevée que dans les régions voisines; l'Alsace est également bien ensoleillée et moins arrosée. Tout ceci constitue un climat favorable aux cultures et à l'élevage.

### Un peu d'histoire

Peuplée dès l'époque celtique, l'Alsace subit la domination romaine, est envahie par les Alamans puis conquise par les Francs. Au traité de Verdun (843), le comté d'Alsace est attribué à la Lotharingie puis il passe au roi de Germanie (870). Région active et prospère dès le Moyen Âge, l'Alsace devient un grand foyer d'humanisme (naissance de l'imprimerie à Strasbourg, 1434). La Réforme y trouve un terrain propice et la province est ravagée pendant la guerre de Trente Ans.

### Division administrative

L'Alsace est la plus petite région de France métropolitaine après la Corse. Dans ses deux départements, Bas-Rhin au nord et Haut-Rhin au sud, elle compte néanmoins 1,73 million d'habitants, soit 3,0 % de la population métropolitaine. Avec 209 habitants au km<sup>2</sup>, le double de la densité française moyenne, elle arrive au 3e rang après l'Île-de-France et le Nord-Pas-de-Calais.

## **Strasbourg, ville européenne**

New-York, Genève et Strasbourg: les seules villes au monde qui accueillent des institutions internationales sans être des capitales d'Etat. Le choix de Strasbourg comme capitale européenne au lendemain du second conflit mondial n'est pas le fruit du hasard, mais le symbole de la réconciliation entre les peuples et de l'avenir de l'Europe.

## **Le Conseil de l'Europe**

Dès sa création en 1949, sa vocation a été de réunir toutes les démocraties du vieux continent. Actuellement 45 pays membres, représentant environ 765 millions de personnes, font partie de ce "club" des démocraties pluralistes, qui se préoccupe en priorité de la protection des droits de l'homme, mais aussi d'affaires sociales, d'éducation, de culture et d'environnement.

## **Le Palais des Droits de l'Homme**

Construit d'après les plans de l'architecte britannique Sir Richard Rogers, coauteur du Centre Beaubourg de Paris, il a été inauguré en 1995. Il abrite la Cour Européenne des Droits de l'Homme. Des programmes de conférences spécialisées peuvent être proposés au public sensibilisé aux questions des droits de l'homme.

## **Industrie**

L'Alsace fait partie des régions les plus riches et les plus dynamiques, avec un PIB par habitant d'environ 24 000 euros en 2 000 (troisième rang national après l'Ile-de-France et Rhône-Alpes), qui a augmenté de 43 % en valeur sur dix ans (6 points de plus que la moyenne nationale). Le principal moteur de la croissance est le tertiaire marchand. Mais l'économie régionale bénéficie par ailleurs du maintien d'une activité industrielle diversifiée et toujours florissante, qui représente encore 28 % de la richesse produite (textile; mécanique; brasserie, potasse). Du fait de sa position frontalière, de la forte présence de groupes étrangers et de son dynamisme industriel, l'Alsace occupe le quatrième rang parmi des régions françaises pour les exportations et les importations.

L'agriculture de l'Alsace est intensive et variée: céréales, betteraves à sucre, tabac, houblon, chou à choucroute, maïs, culture fruitier. C'est une région avec des vignobles qui donnent des vins blancs très réputés. L'Alsace représente 18 % de la production française de vins blancs AOC.

**Activité 2. Après avoir fait l'analyse du texte proposé dans l'activité 1 faites un test. Choisissez ensuite une information qui, à votre avis, représente le mieux la spécificité de la région. Si certaines informations vous manquent, consultez les sites Internet pour y trouver des réponses aux questions posées.**

### **Test (Alsace)**

1. L'Alsace devient effectivement française en ...  
a) 1012; b) 1678; c) 1434.
2. L'Alsace est ...  
a) la plus petite région de la France;  
b) la plus grande région de la France;  
c) la plus petite région de la France lointaine.
3. A l'époque de Jules Cesar la première ville alsacienne s'est développée autour ...  
a) d'une petite ville germanique;  
b) d'un avant-post de latinité;  
c) d'un camp militaire.
4. Le nom d' "Alsace" est signalé par la première fois dans la chronologie ...  
a) à la période du Saint Empire germanique;  
b) à l'époque celtique;  
c) au temps médiévaux.
5. Choisissez la ville alsacienne:  
a) Plénaf Val-André; b) Lisieux; c) Dijon.
6. Strasbourg abrite le siège  
a) du Conseil de l'Europe;  
b) de la Commission européenne;  
c) de l'UNESCO.
7. Le fromage alsacien est ...  
a) Roquefort; b) camembert; c) Munster.
8. La langue alsacienne vient ...  
a) de l'italien; b) de l' espagnole; c) du germanique primitif.
9. Le "winstub" signifie:  
a) un café; b) un restaurant; c) un petit débit de vins.
10. On appelle les vins d' Alsace ...  
a) selon le cépage;

- b) selon la localité d'origine;
- c) selon les châteaux.

## Unite 4

### La Bourgogne

**Activité 1. Lisez le texte. Après l'avoir lu rédigez son plan. Notez les mots-clés qui aident à mieux comprendre les détails.**

*Superficie: 31 582 km<sup>2</sup>.*

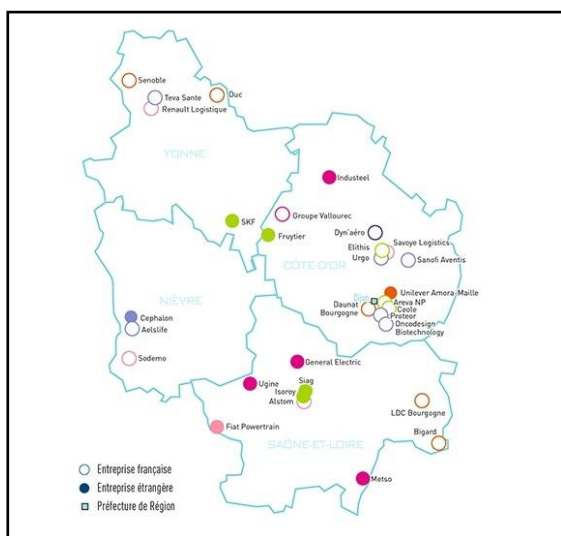
*Population: 1 610 090 habitants.*

*Densité moyenne: 51 habitants/km<sup>2</sup>.*

*Départements: 4.*

*Chef-lieu: Dijon.*

### Situation géographique



La Bourgogne est située dans la partie Est de la France. Contrairement à l'image qui en est parfois proposée, la réalité régionale ne se limite pas à la Côte-d'Or et à ses opulents vignobles, aux Hospices de Beaune et aux splendeurs duciales de la riche ville de Dijon: au nord, les plaines de grande culture du Sénonais annoncent déjà l'Île-de-France; au sud-ouest, les parcs ombragés du Charolais et du Nivernais,

avec leurs troupeaux de boeufs blancs, préfigurent le Bourbonnais; au sud-est, la Bresse, dépression humide propice à la polyculture (maïs notamment), se ramifie en direction des départements du Jura et de l'Ain.

### Découpage administratif

La Bourgogne se compose de 4 départements: la Côte-d'Or, la Nièvre, la Saône-et-Loire, l'Yonne. Les chefs-lieux des départements sont Auxerre (Yonne), Mâçon (Saône-et-Loire), Nevers (Nièvre), Dijon (Côte-d'Or). Dijon est également le chef-lieu de la région. La ville se situe à la jonction des grands itinéraires vers Paris, la Méditerranée, l'Allemagne, la Suisse et l'Italie,

desservies par routes, voies ferrées et voies d'eau. Cette situation privilégiée a marqué le développement de la ville comme centre commercial et industriel. Dijon possède en outre une prestigieuse cité universitaire. La Bourgogne est une région vaste, elle se place au 15ème rang des régions européennes.

### **Économie**

Les principaux secteurs d'activités Les ressources du sous-sol étant limitées, la tradition industrielle est peu marquée en Bourgogne, sauf autour du bassin minier de Montceau-les-Mines – Le Creusot. La région regroupe environ 3 % des entreprises artisanales françaises (plus de 25 000). Les entreprises industrielles comptent 112 913 salariés, dont 65 % appartiennent à 3 grands pôles d'excellence: la mécatronique (mécanique-électronique-plastique) l'agro-alimentaire la métallurgie et le travail des métaux L'industrie s'est développée, grâce à la main-d'oeuvre agricole en surnombre, à la faveur de la croissance économique de l'après-guerre et des décentralisations des années 1960.

### **Agriculture**

L'agriculture bourguignonne reste un pilier de l'économie régionale. L'agriculture emploie encore près de 9 % de la population active et manifeste une certaine vitalité, en dépit d'une diminution régulière du nombre des exploitations et du vieillissement de la population agricole. Les systèmes de production se partagent de la manière suivante: grande culture (céréales, oléo-protéagineux) en un croissant nord allant du nivernais à la plaine de la Saône; élevage de bovins pour la viande, du Morvan au Charolais; élevage pour le lait, en Bresse et Puisaye; le maraîchage (Auxonne, Saint-Marcel-lès-Chalon, et la région de Louhans); la viticulture en bordure ouest de la plaine de Saône (de la Côte d'Or au Mâconnais), le Val-de-Loire (Pouilly) et les côteaux de l'Auxerrois-Tonnerrois (Chablis).

### **La fonction de carrefour**

La densité des voies de communication est étroitement liée à la place occupée par la Bourgogne dans l'espace français et européen. Région tampon entre l'Île-de-France et Rhône-Alpes – cette dernière conduisant au littoral méditerranéen – la Bourgogne bénéficie des grands flux d'échanges Nord-Sud qui s'amplifient en Europe. Aussi l'aménagement de la route

transversale joignant Dijon à Nevers par Autun et Château-Chinon a-t-il été envisagé en vue d'équilibrer l'armature routière régionale, très nettement favorable à l'arc Dijon, Beaune, Chalon-sur-Saône.

**Activité 2. Après avoir fait l'analyse du texte proposé dans l'activité 1 faites un test. Choisissez ensuite une information qui, à votre avis, représente le mieux la spécificité de la région. Si certaines informations vous manquent, consultez les sites Internet pour y trouver des réponses aux questions posées.**

### **Test (Bourgogne)**

1. Depuis quelle année les Burgondes se sont-ils installés sur le territoire bourguignon?  
a) En 52 avant J.-C.; b) Vers 480; c) En 534.
2. Où se trouve le point culminant de la Bourgogne?  
a) Dans le Charolais; b) Dans le Morvan; c) Dans la Bresse.
3. Auxerre, c'est le chef-lieu de ...  
a) la Côte-d'Or; b) la Nièvre; c) l'Yonne.
4. Quelle rivière de la Bourgogne est irrégulière?  
a) la Loire; b) La Saône; c) L'Yonne.
5. En quelle année a-t-on créé le Parc Naturel Régional du Morvan?  
a) 1960; b) 1970; c) 1980.
6. Qu'est-ce que c'est le Creusot?  
a) Bassin minier de Montceau-les-Mines; b) L'entreprise industrielle;  
c) Les ressources charbonnières du bassin de Blanzay et de la Nièvre.
7. "Basse-Bourgogne", c'est-à-dire ...  
a) la Saône-et-Loire; b) l'Yonne; c) la Côte-d'Or.
8. "Haute-Bourgogne", c'est-à-dire ...  
a) la Côte-d'Or; b) la Nièvre; c) la Saône-et-Loire.
9. Quelle fête du vignoble bourguignon existe-t-il en Bourgogne?  
a) Tastevin; b) des Hospices de Beaune; c) Saint-Vincent tournante.
10. Quand des "Journées gourmandes du Morvan" ont lieu en Bourgogne?  
a) Au mois de mai; b) Au mois de juillet; c) Au mois d'octobre.

## Unité 5

### La Champagne-Ardenne

**Activité 1. Lisez le texte. Après l'avoir lu rédigez son plan. Notez les mots-clés qui aident à mieux comprendre les détails.**

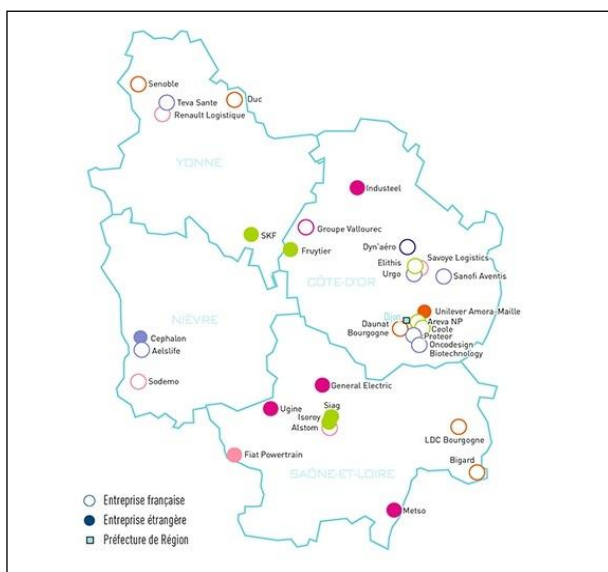
*Superficie: 25 606 km<sup>2</sup>.*

*Population: 1 338 500 habitants.*

*Densité moyenne: 52 habitants/km<sup>2</sup>.*

*Départements: 4.*

*Chef-lieu: Châlons-en-Champagne.*



### Situation géographique

La Région est bordée à l'ouest par des plateaux de l'ère tertiaire (Tardenois et de Brie) formant une cuesta incurvée de la Seine, au sud, à l'Oise, au nord, et constituée d'une couche dure (calcaire) surplombant une couche tendre (argile, marne). À l'extrémité est de cette cuesta, le calcaire domine les plaines marneuses sur lesquelles est concentré l'essentiel

des vignobles de Champagne. La Champagne crayeuse forme un arc de cercle depuis Thiérache, au nord, jusqu'au pays d'Othe, au sud. Limitée à l'est par la côte de Champagne, cette région est constituée de craie datant de l'époque du Crétacé (ère secondaire).

### Découpage administratif

La Région Champagne-Ardenne comprend quatre départements: les Ardennes, l'Aube, la Haute-Marne et la Marne. Le chef-lieu de Région est Châlons-en-Champagne. La Champagne-Ardenne dépend de la cour d'appel et de l'académie de Reims, appartient à la région militaire de Metz et fait partie de la province ecclésiastique de Reims. Le chef-lieu des Ardennes est Charleville-Mézières, tandis que les chefs-lieux d'arrondissement sont Reims, Sedan et Vouziers.

### Économie de la région

De nombreuses activités industrielles découlent des activités viticoles et agricoles. Le secteur secondaire représente en Champagne-Ardenne 27 %

de l'emploi régional (moyenne nationale de 22,9 %) et 33,4 % du PIB régional (moyenne nationale de 29,8 %). La Région a été particulièrement touchée par la crise des industries traditionnelles, notamment la métallurgie et le textile. La fonderie et le travail des métaux constituent les plus importantes activités industrielles des Ardennes. Les forges, l'estampage et la boulonnerie ont pu s'y maintenir malgré une profonde crise structurelle. L'essentiel des industries est concentré dans la vallée de la Meuse: tuberie de cuivre, fonderie de bronze à Givet, fonderie, appareils sanitaires, électroménager à Revin, métallurgie et automobile à Charleville-Mézières (fonderie Citroën), métallurgie-fonderie à Sedan. La vallée de l'Aisne accueille également quelques sites industriels – Attigny, Rehel (matériel de levage, électroménager) ou encore Vouziers. Cependant, l'influence de Reims limite son expansion. Le passé sidérurgique de la Haute-Marne est présent dans ses activités métallurgiques de transformation – coutellerie, métallurgie de précision dans le Bassigny, constructions mécaniques et armement à Froncles, et tréfilerie à Saint-Dizier. La Champagne-Ardenne produit encore 25 % de la fonderie nationale.

### **De nouvelles activités industrielles**

En marge des activités traditionnelles de la métallurgie et du textile, d'autres industries se maintiennent: la métallurgie de transformation à Châlons-en-Champagne (horlogerie), les constructions ferroviaires à Épernay, les instruments de précision à Sainte-Menehould, les constructions mécaniques à Vitry-le-François. La Région doit cependant effectuer de nombreuses reconversions et développer de nouvelles industries pour enrayer son déclin démographique, puisqu'un actif sur quatre quitte en effet la Champagne-Ardenne. En aval des activités agricoles et viticoles, l'emballage-conditionnement (bouchons, verrerie de Sainte-Menehould, papier-carton à Reims) se présente notamment comme l'une de ces nouvelles filières, de même que la plasturgie, secteur en forte progression-matières plastiques à Charleville-Mézières (Ford), à Donchéry (General Motors), à Givet (Schulmann Plastics), à Langres (Optical Disc), à Sainte-Menehould, à Troyes.

**Activité 2. Après avoir fait l'analyse du texte proposé dans l'activité 1 faites un test. Choisissez ensuite une information qui, à votre avis, représente le mieux la spécificité de la région. Si certaines**



**informations vous manquent, consultez les sites Internet pour y trouver des réponses aux questions posées.**

### **Test (Champagne-Ardennes)**

1. Quel est le chef-lieu de la Marne?  
a) Châlons-en Champagne; b) Langres; c) Chaumont; d) Troyes.
2. Où se trouve l'essentiel des vignobles de Champagne?  
a) Sur les plaines marneuses; b) Dans la Champagne crayeuse; c) Au sud du département; d) Dans la Champagne pouilleuse.
3. Quelle est la température moyenne du janvier doux?  
a) 5°; b) 2°; c) 8°; d) 10°.
4. Quelle est la superficie de Champagne-Ardennes?  
a) 52 290 km<sup>2</sup>; b) 25 606 km<sup>2</sup>; c) 28 606 km<sup>2</sup>; d) 31 585 km<sup>2</sup>.
5. A partir de quel siècle la Champagne a commencé à trouver une unité ?  
a) IXe s; b) XIe s; c) Xe s; d) XIXe s.
6. Dans quelle cathédrale a eu lieu le sacre de Louis XIV?  
a) de Chaumont; b) de Troyes; c) de Reims; d) de Langres.
7. Pendant combien d'années la Champagne a été occupée lors la Seconde Guerre mondiale?  
a) 2 ans; b) 1 an; c) 5 ans; d) 4 ans.
8. Où se trouve la fonderie Citroën?  
a) À Langres; b) À Charleville-Mézières; c) À Troyes; d) À Bar-sur-Aube.
9. Pour quoi est renommé Châlons-en-Champagne?  
a) Horlogerie; b) Produits laitiers; c) Industrie du bois; d) Sucrierie.
10. Combien de parcs naturels possède la région de Champagne-Ardennes?  
3 b); 1 c); 5 d) 2.

## **Unité 6**

### **La Corse**

**Activité 1. Lisez le texte. Après l'avoir lu rédigez son plan. Notez les mots-clés qui aident à mieux comprendre les détails.**

*Superficie: 8 569 km<sup>2</sup>.*

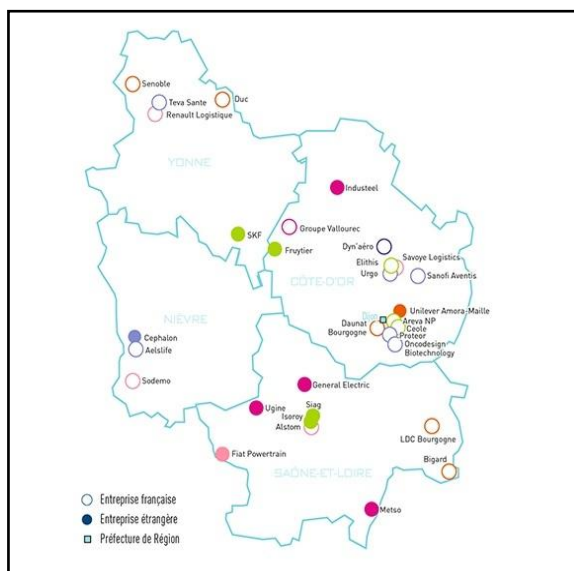
*Population: 260 149 habitants.*

Densité moyenne: 30 habitants/km<sup>2</sup>.

Départements: 2.

Chef-lieu: Ajaccio.

## Situation géographique



Ile de la Mer Méditerranée, la Corse est située à 170 km de la côte niçoise. Elle s'étend sur 8 569 km<sup>2</sup>. Le sous-sol est composé, en grande partie, d'un socle cristallin. Au centre s'élève un massif cristallin, qui s'étend sur presque toute la longueur de l'île, du nord au sud, la partageant en deux parties. Au nord de ce massif, dans la zone du Niolo, s'élève le point culminant de la Corse, le mont Cinto (2 710 m).

## Découpage administratif

La Corse compte deux départements: la Haute-Corse et la Corse-du-Sud. La Corse dépend de la cour d'appel de Bastia, de l'académie d'Ajaccio, et appartient à la région militaire Méditerranée de Lyon. La Corse s'est vu attribuer depuis 1982 le statut particulier de collectivité territoriale, et depuis 1992, l'administration de la Région est rattachée à un Conseil exécutif de sept membres et à une assemblée régionale de cinquante et une personnes élues au suffrage universel. Le centre administratif de la Haute-Corse est Bastia et le centre administratif de la Corse-du-Sud est Ajaccio.

Ajaccio est le chef-lieu de la région Corse, situé sur une rade magnifique est un centre touristique et commercial. Ici se trouve la Maison de Napoléon, le Musée Fesch et d'autres curiosités.

## Économie

La région bénéficie principalement d'une forte popularité touristique. Ses industries agricoles et alimentaires font un réseau de petites entreprises. L'agriculture corse présente diverses facettes: élevage extensif, oliviers, châtaigniers, productions végétales (fourrage, céréales...), viticoles et fruitières... La vigne est la première production agricole (50 %). La plaine orientale fournit actuellement la plus grosse part de la production viticole et fruitière de l'île. Les éleveurs sont moins nombreux, mais avec une qualité de

cheptel représentant un véritable atout. L'élevage bovin est le plus fréquent et le veau corse se distingue nettement des autres viandes sur l'île. L'élevage de brebis laitières pour leur lait sert à la fabrication de nombreux fromages. Les porcs, élevés en liberté, assurent une chair excellente utilisée pour la fameuse charcuterie. L'élevage des moules et des huîtres est également important.

**Activité 2. Après avoir fait l'analyse du texte proposé dans l'activité 1 faites un test. Choisissez ensuite une information qui, à votre avis, représente le mieux la spécificité de la région. Si certaines informations vous manquent, consultez les sites Internet pour y trouver des réponses aux questions posées.**

### **Test (Corse)**

1. Quand l'homme prend-il pied en Corse?  
a) à la fin du Néolithique; b) dès la période du Prénéolithique; c) à l'époque des Romains.
2. Quelle place occupe cette île dans la Méditerranée? (d'après sa superficie)?  
a) deuxième; b) troisième; c) quatrième.
3. Quel est le point culminant de la Corse?  
a) la zone du Niolo; b) le mont Cinto; c) les sommets schisteux du Tavignano.
4. La Corse a reçu le statut de la collectivité territoriale en ...  
a) 1960; b) 1991; c) 1972.
5. Ou se trouve la maison Bonaparte?  
a) Bastia; b) Calvi; c) Ajaccio.
6. Quel est le problème essentiel de cet île?  
a) écologie; b) démographie; c) chômage.
7. Le long de ces côtes se trouvent de nombreuses ...  
a) cathédrales; b) citadelles; c) menhirs.
8. Qu'est-ce qui donne à la charcuterie corse son goût particulier?  
a) les herbes du maquis; b) la camomille; c) le châtaignier.
9. Quelle boisson peut-on trouver en Orezza?  
a) eau minérale gazéifiée; b) des vins d'orange de pêche et de noix; c) des liqueurs de myrte, de cédrat, d'arboise.
10. Quand le parc naturel régional a-t-il apparu en Corse?  
a) 1970; b) 1971; c) 1975.

## Unite 7

### L'Ile-de-France

**Activité 1. Lisez le texte. Après l'avoir lu rédigez son plan. Notez les mots-clés qui aident à mieux comprendre les détails.**

*Superficie: 12 072 km<sup>2</sup>.*

*Population: 10 952 011 habitants.*

*Densité moyenne: 912 habitants/km<sup>2</sup>.*

*Départements: 8.*

*Chef-lieu: Paris.*

#### Situation géographique



L'Île-de-France est une région française située au coeur du Bassin parisien qui couvre plus du quart de la superficie du pays. Cette région s'étend sur plus de 12 000 km<sup>2</sup> et représente 2,2 % du territoire national. Paris et les départements de la petite couronne sont fortement urbanisés, mais 49 % de la superficie totale de la région sont occupés par des espaces agricoles et

23 % par des bois et des forêts. L'Île-de-France, située au coeur du Bassin parisien qui couvre plus du quart de la superficie du pays, bénéficie de conditions naturelles privilégiées. La région est irriguée par la Seine qui reçoit, en amont de la capitale, les eaux du Loing, de l'Yonne, de la Marne, et en aval, celles de l'Oise. L'axe fluvial de la Seine est une importante voie navigable qui fait de Paris le premier port fluvial de France. D'origine sédimentaire, le Bassin parisien est formé de roches résistantes (calcaires, meulière, grès) et de roches plus tendres (sables, marnes, argiles, gypses). L'érosion climatique et fluviale a modelé le paysage de plateaux, plaines, buttes et vallées. La nature variée des sols fait alterner la grande culture (plateaux), la polyculture et le maraichage (vallées).

#### Découpage administratif

Depuis la loi du 10 juillet 1964, la région d'Île-de-France est composée de 8 départements et de 1 281 communes:

Paris, est le support de deux collectivités distinctes (une commune et un département, dotés d'une même assemblée délibérante, le conseil de Paris. La superficie du département est de 10 540 hectares découpé en 20 arrondissements).

La Seine-et-Marne, est le département le plus vaste de la région (591 665 hectares et 514 communes). Il est administré par une préfecture à Melun et trois sous-préfectures: Fontainebleau, Meaux et Provins. Il est découpé en 43 cantons qui forment le conseil général.

Les Yvelines, d'une superficie de 227 088 hectares, sont composés de 262 communes, d'une préfecture à Versailles, de trois sous-préfectures (Mantes-la-Jolie, Saint-Germain-en-Laye et Rambouillet), et de 39 cantons.

L'Essonne, d'une superficie de 180 439 hectares, est composé de 196 communes, d'une préfecture à Evry, de trois sous-préfectures (Palaiseau, Etampes, et Evry-Corbeil-Essonnes) et de 42 cantons.

Les Hauts-de-Seine, le plus petit département de la région (17 541 hectares), est composé de 36 communes, une préfecture à Nanterre, de deux sous-préfectures (Antony et Boulogne-Billancourt) et de 45 cantons.

La Seine-Saint-Denis, d'une superficie de 23 581 hectares, est composé de 40 communes, d'une préfecture à Bobigny, de deux sous-préfectures (Raincy et Saint-Denis) et de 40 cantons.

Le Val-de-Marne, d'une superficie de 24 411 hectares, est composé de 47 communes, d'une préfecture à Créteil, de deux sous-préfectures (l'Hay-les-Roses et Nogent-sur-Marne) et de 49 cantons.

Le Val-d'Oise, d'une superficie de 124 857 hectares, est composé de 185 communes, d'une préfecture à Cergy-Pontoise, de trois sous-préfectures (Argenteuil, Montmorency et Pontoise) et de 39 cantons. Située au carrefour des échanges européens et mondiaux, l'Île-de-France représente le pôle de développement principal de la France et l'un des plus importants au niveau européen. Elle est l'une des plus importantes métropoles mondiales.

## **Économie**

### **Industrie**

Figurant parmi les premières régions industrielles européennes, l'Île-de-France est ouverte aux échanges et aux influences du monde entier. Elle est la première région industrielle de France. L'Île-de-France se caractérise par une prépondérance des industries de consommation et d'équipement. Le secteur a pour branches d'activités majeures dans la région la métallurgie et l'équipement électrique et électronique (30 %), l'imprimerie-édition (14 %), mais aussi l'industrie automobile (14 %), la construction aéronautique et spatiale, et l'industrie pharmaceutique. Le secteur industriel francilien se caractérise surtout par ses très petites entreprises (moins de 2 personnes),

qui représentent 48 % des établissements industriels franciliens. L'avenir industriel tient pour beaucoup dans la capacité des petites et moyennes industries à renforcer leur compétitivité et à rechercher de nouveaux marchés à l'exportation dans le cadre du marché européen. Les effectifs salariés de l'industrie représentent près de 20 % des salariés franciliens.

### **Paris**

Paris est la capitale de la France, la plus grande ville française et le chef-lieu de la région Île-de-France. Elle est construite sur une boucle de la Seine et comprend une rive gauche et une rive droite. Connue dans le monde entier pour ses monuments et sa vie artistique et culturelle, Paris est aussi un symbole historique fort, un centre économique important et un point de passage pour les transports intereuropéens. La devise de Paris est *Fluctuat nec mergitur*, soit "Il tangue mais ne coule pas": il s'agit de scilicet le navire représenté sur le blason de la ville et la symbolisant. La patronne de la ville est Sainte Geneviève, qui symbolise la résistance de la ville à Attila, au Ve siècle.

### **Économie**

L'industrie a quitté Paris pour la périphérie. Au XIXe siècle, la France s'engage lentement dans la première révolution industrielle. Paris reçoit la plus grande part de l'exode rural provoqué par la modernisation des campagnes et par l'industrialisation. Pour subsister ou réussir, il faut désormais monter à Paris, ce que le chemin de fer permet dorénavant plus facilement. D'ailleurs, Paris est la seule ville de France où tous les chemins de fer sont des terminus. Tous les investissements de transport se sont d'ailleurs faits en étoile autour de la capitale, qui a vu son poids s'accroître au fur et à mesure que se construisaient les chemins de fer, les routes nationales, les aéroports, les autoroutes, les trains à grande vitesse. C'est seulement depuis 10 ans que de nouveaux tronçons autoroutiers et des gares d'interconnexion du TGV permettent de contourner la capitale. Paris est une grande ville attractive grâce à sa proximité du pouvoir, sa main d'oeuvre bien formée, son important marché de consommation, ses centres de recherche.

**Activité 2. Après avoir fait l'analyse du texte proposé dans l'activité 1 faites un test. Choisissez ensuite une information qui, à votre avis, représente le mieux la spécificité de la région. Si certaines**

**informations vous manquent, consultez les sites Internet pour y trouver des réponses aux questions posées.**

### **Test (Ile-de-France)**

1. A quelle époque est apparu pour la première fois le nom d'Île-de-France?  
a) Xe s; b) XIVe s; c) XVIIe s.
2. Les rois se fixent à Paris à partir de ...  
a) Louis VI; b) Clovis; c) Charlemagne.
3. A qu'elle époque la cour royale a délaissé Paris pour Versailles?  
a) XIXe s; b) XVe s; c) XVIIe s.
4. Combien de Parcs Naturels Régionaux y a-t-il dans la région?  
a) 5; b) 3; c) 6.
5. Le secteur industriel francilien se caractérise surtout par ses ...  
a) petites entreprises; b) moyennes entreprises; c) grandes entreprises.
6. Quelle rivière qui arrive du sud de Paris, aujourd'hui est entièrement souterraine?  
a) Ourcq; b) Bièvre; c) Marne.
7. La ville de Paris est divisé aujourd'hui en ...  
a) 12; b) 20; c) 8 arrondissements.
8. Paris est jumelé avec ...  
a) Rome; b) Londres; c) Genève.
9. Quelle est la plus grande salle de cinéma à Paris?  
a) Grand Rex; b) Gaumont Italie; c) Géode.
10. Quel musée est le plus visité à Paris?  
a) Orsay; b) Cluny; c) Louvre.

## **Unite 8**

### **La Lorraine**

**Activité 1. Lisez le texte. Après l'avoir lu rédigez son plan. Notez les mots-clés qui aident à mieux comprendre les détails.**

*Supérficie: 23 547 km<sup>2</sup>.*

*Population: 2 311 000 habitants.*

*Densité moyenne: 99 habitants/km<sup>2</sup>.*

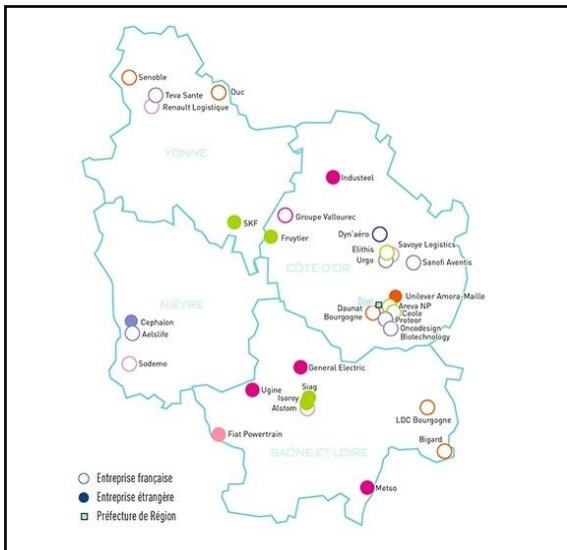
*Départements: 4.*

*Chef-lieu: Metz.*

## Situation géographique

La Lorraine occupe une position géographique privilégiée en Europe. Seule région française à partager ses frontières avec trois pays européens – Belgique, Luxembourg et Allemagne – La Lorraine est une porte d'entrée

exceptionnelle sur l'Union Européenne. La Lorraine se trouve au coeur d'une gigantesque concentration urbaine et économique. Axe majeur de développement à l'échelle du monde, la grande dorsale européenne concentre, entre Londres et Milan, les plus forts potentiels industriels, technologiques et scientifiques d'Europe.



## L'économie Lorraine

L'économie lorraine a, durant de longs siècles, reposé sur le commerce et l'agriculture. Au XIXe siècle, la Révolution industrielle a fait de la Lorraine une région-clé de l'essor économique français. C'est en effet de ses mines qu'ont été extraits le charbon et le fer, indispensables au développement de l'industrie. La mine et l'industrie (métallurgique, textile, chimique) se sont révélés être un remarquable moteur du dynamisme et de la prospérité lorraine durant près d'un siècle. Néanmoins, dans les années 80, la Lorraine a dû faire face au déclin de ses activités historiques. Le pari de la reconversion a été mené avec conviction et pragmatisme et a permis à la Lorraine de renouer avec le succès.

Les voies navigables en Lorraine Liaison fluviale à grand gabarit, la Moselle canalisée raccorde la Lorraine aux grands axes européens de navigation. Elle ouvre ainsi le passage aux barges de 1 500 tonnes (3 000 tonnes en poussée), sans rupture de charge, jusqu'au Rhin et la Mer du Nord (Amsterdam, Rotterdam et Anvers). Ce réseau à grand gabarit est complété par un réseau de canaux accessibles aux péniches de 300 tonnes.

**Activité 2. Après avoir fait l'analyse du texte proposé dans l'activité 1 faites un test. Choisissez ensuite une information qui, à votre avis, représente le mieux la spécificité de la région. Si certaines informations vous manquent, consultez les sites Internet pour y trouver des réponses aux questions posées.**



## Test (Lorraine)

1. Le climat de la Lorraine est ...  
a) continental; b) océanique à influence continental; c) tropical.
2. La population lorraine compte les ... habitants.  
a) 1 500 000; b) 2 760 000; c) 2 311 000; d) 2 457 000.
3. Avec quel héros légendaire est liée l'apparition des armoiries lorraine?  
a) Godefroy de Bouillon; b) Louis XVI; c) Vercingétorix; d) Charlemagne.
4. Le chef-lieu du département du Meurthe-et-Moselle est ...  
a) Nancy; b) Metz; c) Thionville; d) Sarrebourg.
5. La date de l'apparition des 4 départements de la Lorraine: ...  
a) 1790; b) 1871; c) 1918; d) 1972.
6. La Lorraine partage ses frontières avec les pays européens ...  
a) Belgique; b) Pologne; c) Italie; d) Espagne.
7. Pendant quelle période la Lorraine est-elle devenue une région de l'essor économique français ?  
a) XXe s; b) XIXe s; c) XVIIIe s; d) XVIIe s.
8. Quand la France a-t-elle dû céder une partie de la Lorraine à l'Allemagne?  
a) 1892; b) 1795; c) 1956; d) 1871.
9. Quand l'Alsace-Lorraine est redevenu le territoire français?  
a) 1871; b) 1919; c) 1945; d) 1939.
10. La première apparition de l'actuel drapeau remonte au sceau de ...  
a) Godfroy de Bouillon; b) Vercingétorix; c) Seigneur Ferride Bitche; d) Louis XV.

## Unite 9

### Le Nord-Pas-de-Calais

**Activité 1. Lisez le texte. Après l'avoir lu rédigez son plan. Notez les mots-clés qui aident à mieux comprendre les détails.**

*Superficie: 12 414 km<sup>2</sup>.*

*Population: 4 026 000 habitants.*

*Densité moyenne: 324 habitants/km<sup>2</sup>.*

*Départements: 2.*

*Chef-lieu: Lille.*

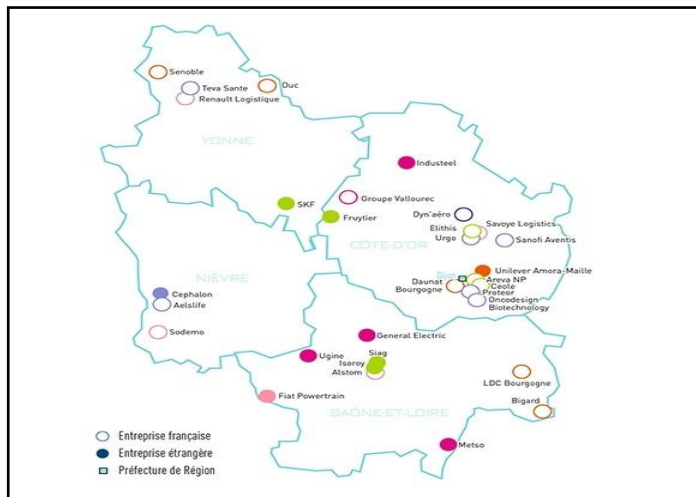
## Situation géographique

Le Nord-Pas-de-Calais se trouve tout au nord de la France. La superficie du Nord-Pas-de-Calais est de 12 414 km<sup>2</sup>, soit 2,3 % du territoire français. Sa bordure littorale est importante: 140 km. Cette région a 350 km de frontières avec la Belgique. Elle est située entre le 50ème et le 51ème parallèle, c'est-à-dire la même latitude que Cracovie, Prague, le nord de la Chine, Vancouver. Son faible relief en fait une voie de communication naturelle entre Europe du nord et du sud, en particulier par le seuil de Bapaume. La barrière de la crête de l'Artois, d'à peine 100 mètres de dénivelé, a servi de rivage lors d'invasions marines au Tertiaire. D'autre part, la région est ouverte au détroit le plus fréquenté du monde, le Pas-de-Calais. Sa très proche voisine, la Grande-Bretagne (35 km), lui assure naturellement une place de premier rang dans le transit européen.

## Découpage administratif

Cette région administrative groupe les départements du Nord et du Pas-de-Calais.

Le Nord est le département français le plus septentrional, ce qui est à l'origine de son nom. C'est le département le plus peuplé de France, et avec le Pas-de-Calais, il constitue la région Nord-Pas-de-Calais.



Le Pas-de-Calais doit son nom au détroit qui le sépare de l'Angleterre. Le Pas-de-Calais fut l'un des 83 départements créés à la Révolution française, le 4 mars 1790 en application de la loi du 22 décembre 1789. Il fut constitué de plusieurs pays: le Boulonnais, le Calaisis, l'Artois et une partie du Ponthieu.

Lille est une grande ville française, chef-lieu de la région Nord-Pas-de-Calais et préfecture du département du Nord qui se trouve à 218 km de Paris. Ses habitants sont appelés les Lillois. Lille c'est le centre commercial, les industries textiles et métallurgiques y sont bien développées. Cette ville est riche en curiosités. Ici se trouve l'Ancienne Bourse de 1652, citadelle de Vauban; le musée de Beau-Arts, un de plus riches de France (peintures flamande, hollandaise, française etc.); le musée de l'hospice Comtesse et d'autres. Lille fut incorporée à la France en 1667.

## L'économie

La région, longtemps la plus industrialisée de la France (acier, textile, charbon) est devenu aujourd'hui la victime de la crise des industries traditionnelles et une terre d'émigration. Le dernier puits de mine a été fermé en 2004. Le Nord-Pas-de-Calais a perdu des centaines de milliers d'emploi et s'est donc profondément transformée, mais le taux de chômage reste supérieur à la moyenne nationale. Malgré la présence de grandes entreprises (aluminium, verrerie, construction automobile) et la création de petites unités utilisant de nouvelles technologies, le taux de chômage reste supérieur à la moyenne nationale. La région a su développer une importante industrie agroalimentaire (8 % de la production nationale), une agriculture à haute productivité occupe des superficies réduites et un peu plus de 4 % de la population active; elle fournit d'importantes quantités de betterave, de viande (porcins) et de lait (élevage bovin).

**Activité 2. Après avoir fait l'analyse du texte proposé dans l'activité 1 faites un test. Choisissez ensuite une information qui, à votre avis, représente le mieux la spécificité de la région. Si certaines informations vous manquent, consultez les sites Internet pour y trouver des réponses aux questions posées.**

### Test (Nord-Pas-de-Calais)

1. Lille fut incorporée à la France sous le règne de ...  
a) François I; b) Louis XIV; c) Louis XII.
2. Le Nord-Pas-de-Calais est le coeur de l'Europe grâce ...  
a) aux réseaux ferrés; b) au tunnel sous la Manche; c) aux ports maritimes.
3. Le jeu traditionnel de la région est ...  
a) tir à l'arbalète; b) pelote basque; c) pétanque.
4. Le Nord-Pas-de-Calais est située la même latitude que ...  
a) Berlin; b) Rome; c) Cracovie.
5. La Canche et l'Authie prennent la source ...  
a) dans les Alpes; b) dans le Massif Central; c) sur le versant Sud de l'Artois.
6. Aux temps gallo-romains la région portait le nom ...  
a) Normandie; b) Belgique; c) Flandre.
7. Le Nord-Pas-de-Calais est située ...

a) sur les plateaux; b) dans les montagnes; c) sur les plaines.

8. Ce territoire est divisé en 2 départements ...

a) pendant la Révolution française; b) à l'époque de Napoléon; c) sous le règne de Clovis.

9. "Les bourgeois de Calais", sculpture d'Auguste Rodin est consacré ..."

a) au courage de 6 Bourgeois pendant la guerre de Cent ans;  
b) à l'époque gallo-romaine; c) à l'âge du bronze.

10. Le tunnel sous La Manche a été ouvert en ...

a) 2000; b) 1994; c) 1965.

## Unité 10

### La Normandie

**Activité 1. Lisez le texte. Après l'avoir lu rédigez son plan. Notez les mots-clés qui aident à mieux comprendre les détails.**

#### **Normandie (-Haute)**

*Superficie: 12 317 km<sup>2</sup>.*

*Population: 1 737 247 habitants.*

*Densité moyenne: 128 habitants/km<sup>2</sup>.*

*Départements: 2.*

*Chef-lieu: Rouen.*

#### **Normandie (-Basse)**

*Superficie: 17 589 km<sup>2</sup>.*

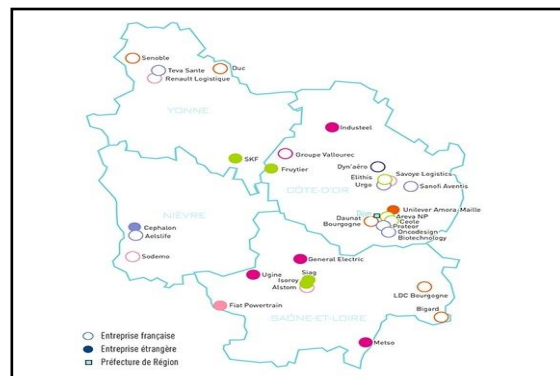
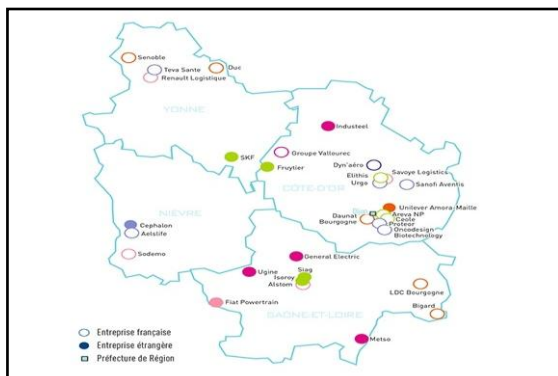
*Population: 1 391 318 habitants.*

*Densité moyenne: 74 habitants/km<sup>2</sup>.*

*Départements: 3.*

*Chef-lieu: Caen.*

### Situation géographique



La Normandie s'étend de L'île-de-France jusqu'à la Manche, de la Picardie à la Bretagne sur la façade occidentale du Bassin parisien. La mer joue un très grand rôle dans la vie des Normands. Elle conditionne aussi le climat de ce pays qui est doux, frais et humide. A présent, on divise la Normandie en deux régions la Haute Normandie (la partie orientale) et la Basse Normandie (sa partie occidentale). Le paysage le plus typique de toute la Normandie est le bocage. Les chênes et les frênes forment des haies vives sur les hauts talus qui entourent chaque parcelle. Sur le blason normand on peut voir deux léopards passants, d'or, sur le champ de gueules. Henri II Plantagenêt a choisi le blason avec "léo-pard" ("léo" – lion et "pard" – panthère). On a adopté ce blason après le couronnement de Charles V, roi de France en 1365.

### **Les départements de la Normandie**

L'Eure a une surface de 6 047 km<sup>2</sup> et une population de 514 000 habitants. L'Eure est un département maritime grâce à 5 km de rivage au niveau de Berville-sur-Mer. Le département est composé surtout de plaines vallonnées ponctuées par quelques plateaux. De nombreuses rivières ajoutent une note bucolique à sa campagne verdoyante, parmi celle-ci on peut se promener très agréablement auprès de l' "Eure (riv)", la "Risle", l' "Oison".

La Seine-Maritime est un département de plus de 1 223 400 habitants et de 6 275 km<sup>2</sup>. C'est donc le département le plus peuplé de Normandie. Il y a de nombreux plateaux qui dans le sud du département laisse place à La Vallée de la Seine, voie de communication très importante entre Paris et la Mer.

Le Calvados est un département du nord-ouest de la France qui fait 5 536 km<sup>2</sup>. Il est bordé par la mer au nord et les départements de l'Eure à l'est, l'Orne au sud et la Manche à l'ouest. Le député Delaunay a proposé le nom Calvados pour éviter l'appellatio Orneinférieure. C'est le nom de hauts-fonds situés devant Arromanches-les-Bains. Ici il y a 626 584 habitants, dont 380 000 habitants en zone urbaine, 4 arrondissements, 38 cantons, 705 communes.

La Manche est un département de 5 938 km<sup>2</sup> et plus de 479 636 habitants et est bordé par la mer et les départements du Calvados et de l'Orne à l'est et la Mayenne et l'Ille-et-Vilaine au sud. La péninsule du Cotentin qui forme le département se termine par le Cap de la Hague. La partie nord est un plateau peu élevé qui se transforme en plaine dans l'est et en collines dans le sud. On y dénombre plusieurs rivières navigables telles que le Couesnon, la See, la Vire, la Taute et la Douve. Les principales ressources agricoles sont céréalières, mais il y a également des cultures de

pommes de terre et de pommes pour le cidre. L'élevage y est également important.

### **L'économie de la Normandie**

Haute-Normandie. Le pays des vergers, la Haute-Normandie est par excellence le pays du cidre. Les principales activités économiques se trouvent le long de la Seine avec des industries récemment installés comme l'automobile, l'électronique ou la pharmacie. Autour du Havre (2e port français) et de Rouen s'est créée une puissante industrie pétro-chimique. L'agriculture est aussi importante (l'élevage, la production de céréales) et surtout la production des fromages, les pommes.

Basse-Normandie. L'agriculture tient une grande place dans la région, notamment l'élevage qui donne lieu à une véritable industrie de la viande et du lait. On produit ici le fromage Camembert, des pommes et du Calvados. La vache normande n'en est pas moins une "actrice" importante de l'économie régionale; pour sa viande mais aussi son lait avec lequel on produit crème, beurre et les "héros" des plateaux de fromages comme le Camembert, le Pont-l'Évêque, le Livarot etc. La Normandie possède de quelques stations balnéaires connus: Deauville, Trouville, Cabourg.

**Activité 2. Après avoir fait l'analyse du texte proposé dans l'activité 1 faites un test. Choisissez ensuite une information qui, à votre avis, représente le mieux la spécificité de la région. Si certaines informations vous manquent, consultez les sites Internet pour y trouver des réponses aux questions posées.**

### **Test (Normandie)**

1. Jeanne d'Arc fut brûlée vive le 30 Mai 1431 à ...  
a) Rouen; b) Paris; c) Caen; d) Cherbourg.
2. Qui est entré le 10 Novembre 1449 à Rouen en vainqueur à l'aide de Jeanne d'Arc?  
a) Charles VI; b) Charles VII; c) Charles VIII.
3. Une métropole du Calvados c'est ...  
a) Caen; b) Rouen; c) Strasbourg; d) Paris.
4. Le paysage le plus typique de toute la Normandie est ...  
a) bocage; b) maquis; c) désert.
5. Le Parc Naturel Régional existe pour protéger: ...  
a) monuments; b) terroir; c) nature.
6. Le département le plus peuplé de la Normandie ...

- a) Eure; b) Manche; c) Seine-Maritime.  
 7. La Normandie est constituée de ... départements.  
 a) 3; b) 4; c) 5; d) 2.  
 8. Le climat de cette région est ...  
 a) chaud; b) sec; c) humide.  
 9. Normandie-Métropole a été fondée par les villes: ...  
 a) Caen; b) Rouen; c) Havre; d) Paris.  
 10. ... est une grande région céréalière.  
 a) Orne; b) Calvados; c) Manche.  
 11. Les Normands, sont-ils ...?  
 a) conservateurs; b) légers; c) imprudents.  
 12. Le roi ... signe en 911 un traité avec Rollon.  
 a) Henri II; b) Charles le Simple; c) Charles II le Chauve.

## Unite 11

### Les pays de la Loire

**Activité 1. Lisez le texte. Après l'avoir lu rédigez son plan. Notez les mots-clés qui aident à mieux comprendre les détails.**

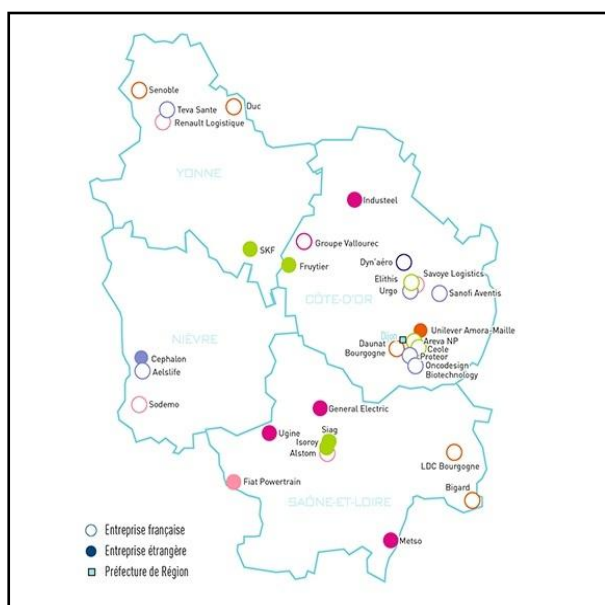
*Supérficie: 32 082 km<sup>2</sup>.*

*Population: 3 289 811 habitants.*

*Densité moyenne: 100 habitants/km<sup>2</sup>.*

*Départements: 5.*

*Chef-lieu: Nantes.*



### Situation géographique

La région des Pays de la Loire s'étend sur 32 082 km<sup>2</sup>. Elle tire son nom du fleuve qui la traverse. Avant de se jeter dans l'océan Atlantique, la Loire, dont les derniers affluents irriguent la région: la Maine-et-Loire, la Sarthe et la Mayenne qui se rassemblent pour former la Maine à Angers, l'Erdre, au nord; le Thouet et la Sèvre Nantaise au sud. Au total, on recense 18 000 kilomètres de cours d'eau.

## **Découpage administratif**

La région des Pays de la Loire est une région artificielle, née en 1972. Elle comporte 5 départements, elle est composée de 192 cantons et de 1 503 communes: Loire-Atlantique Le département a été créé à la Révolution française, le 4 mars 1790, en application de la loi du 22 décembre 1789, à partir d'une partie de la province de Bretagne. Il s'appelait alors Loire-Inférieure (1790 – 1957) et prit son nom actuel le 9 mars 1957; Sa préfecture est Nantes, sous-préfectures – Ancenis, Châteaubriant, Saint Nazaire.

## **Économie**

C'est une région qui se trouve au centre de la façade atlantique, mais éloignée des grands marchés européens. La région des Pays de la Loire se caractérise, comme l'ensemble du grand ouest, par sa situation périphérique par rapport aux principaux flux économiques et décisionnels centrés sur la dorsale européenne. Placée au centre de la Façade Atlantique, la région, et en particulier l'estuaire de la Loire, n'est pas encore suffisamment reconnue dans ce rôle. Parmi cinq départements qui composent la région des Pays de la Loire: la Mayenne et la Vendée ont encore un caractère rural affirmé, avec des atouts spécifiques tels, par exemple, un faible taux de chômage pour le premier, une vitalité économique pour le second; la Loire-Atlantique, le Maine-et-Loire et la Sarthe, où sont situées les principales agglomérations de la région, disposent, chacune avec ses spécificités, d'une palette étendue d'activités économiques. Pays de la Loire est une région attractive sur le plan économique, avec des filières d'excellence reconnues au niveau national. L'emploi régional se répartit ainsi: 64 % dans le tertiaire, 26 % dans l'industrie, 5 % dans le BTP, 5 % dans l'agriculture.

**Activité 2. Après avoir fait l'analyse du texte proposé dans l'activité 1 faites un test. Choisissez ensuite une information qui, à votre avis, représente le mieux la spécificité de la région. Si certaines informations vous manquent, consultez les sites Internet pour y trouver des réponses aux questions posées.**

### **Test (pays de la Loire)**

1. Combien de départements y a-t-il dans la région des Pays de la Loire?  
a) 5; b) 8; c) 3; d) 1.



2. Quel est le nom ancien de la Loire-Atlantique?  
a) Atlantiquité; b) Loire-Inférieure; c) La vieille Loire.
3. Quelle est la date de naissance de l'Université de Nantes?  
a) 1760; b) 1589; c) 1460.
4. Quel nom utilise-t-on pour les habitants de la région Pays de la Loire?  
a) Loiriens; b) Ligériens; c) Ligerlandais.
5. Combien d'habitants compte-on dans la région Pays de la Loire?  
a) 800 000; b) 1 950 000; c) 3 289 811.
6. Quel palais a été construit par un ingénieur de Chemins de Fer sous Napoléon III ?  
a) Palais de Briau; b) Palais du Tricot; c) Palais des Bourbons.
7. Quels sont les hivers des pays de la Loire?  
a) Doux et pluvieux; b) Secs; c) Très chauds.
8. La christianisation de Nantes, quand s'est-elle passée?  
a) Vers 500; b) Entre 900 et 600 av.J.C; c) IIIe siècle.

## Unite 12

### La Picardie

**Activité 1. Lisez le texte. Après l'avoir lu rédigez son plan. Notez les mots-clés qui aident à mieux comprendre les détails.**

*Superficie: 19 399 km<sup>2</sup>.*

*Population: 810 700 habitants.*

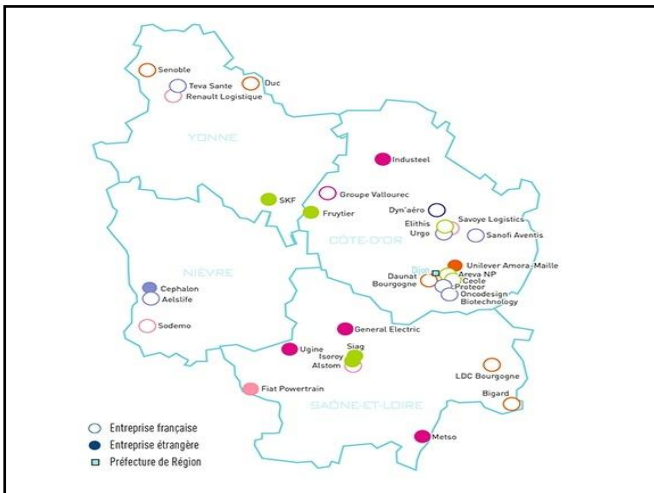
*Densité moyenne: 96 habitants/km<sup>2</sup>.*

*Départements: 3.*

*Chef-lieu: Amiens.*

### Situation géographique

La région géographique de Picardie est située aux confins de la Bresle, de la Canche, du Thérain et de l'Oise. La Picardie est formée du nord du Bassin parisien. C'est un plateau crayeux, qui reste une région de plaines. On y trouve notamment les villes d'Abbeville ou d'Amiens. Région de climat océanique, marquée de nuances continentales vers l'intérieur, la Picardie s'ouvre sur la Manche par une courte façade littorale de part et d'autre de la baie de Somme.



## Découpage administratif

Départements: l'Aisne 537 300 habitants; l'Oise 725 600 habitants; la Somme 547 800 habitants. Le chef-lieu du département de la Somme et la capitale de la Région Picardie, Amiens est située sur la Somme; 136 234 habitants (env. 156 000 habitants dans l'agglomération).

## L'économie régionale

La Picardie a une économie qui repose principalement sur la production agricole. On l'appelle "le pays des piocheurs". Les importants regroupements des exploitations et une mécanisation poussée lui permet des rendements supérieurs à la moyenne nationale. La Picardie est un pôle de l'agro-alimentaire de part ses conserveries et ses sucreries. Le marché le plus porteur est au sein des dérivés "sucres et céréales". Bonduelle est implanté à Péronne, Findus à Beauvais et Sapad-Nestlé à Saint-Quentin. La Picardie tient le premier rang régional pour la production de légumes destinés aux conserveries. Elle est aussi la première productrice de sucre de betterave. Elle représente 10 % de la production européenne et 1/3 de la production française. Les 2/3 de la fabrication française de parfums sont réalisés en Picardie. Les grandes marques telles que Bourgeois, Chanel, Givenchy ou Yves-Saint-Laurent y sont présentés. A Beauvais on fabrique la moitié des éponges utilisées dans le monde. La région est leader dans la fabrication des brosses à dents. La véritable vitalité de la Picardie reste l'industrie. Elle emploie un salarié sur trois. La région regroupe de nombreuses sociétés industrielles.

**Activité 2. Après avoir fait l'analyse du texte proposé dans l'activité 1 faites un test. Choisissez ensuite une information qui, à votre avis, représente le mieux la spécificité de la région. Si certaines informations vous manquent, consultez les sites Internet pour y trouver des réponses aux questions posées.**

## Test (Picardie)

1. En combien de départements la Picardie est-elle divisée?  
a) 2; b) 3; c) 4.
2. Préfecture de la région est ...  
a) Compiègne; b) Dijon; c) Amiens.
3. La Picardie est formée du nord ...  
a) du bassin Parisien; b) du bassin Aquitain; c) du sillon Rhodanien.
4. Pendant cette guerre, Picardie était le théâtre de batailles ...  
a) de Cent ans; b) franco-prussienne; c) première Guerre mondiale.
5. L'économie régionale repose principalement sur la production ...  
a) agricole; b) parachimique; c) pétrochimique.
6. Les hortillonnages d'Amiens rappellent la tradition ...  
a) Gallo-romaine; b) Germanique; c) Flamande.
7. Pourquoi la Picardie occupe-t-elle la position stratégique dans les échanges européens?  
a) Son réseau de transport est très performant; b) Elle regroupe de nombreuses sociétés industrielles; c) Elle est le passage obligé pour les liaisons entre le Benelux.
8. La société Procter et Gamble se trouve à ...  
a) Amiens; b) Saint-Quentin; c) Mers-les-Bains.
9. La plus vaste église de France est construite au ...  
a) 11<sup>ème</sup> siècle; b) 13<sup>ème</sup> siècle; c) 16<sup>ème</sup> siècle.
10. Le Musée de Picardie est construit par l'ordre de ...  
a) Napoléon I; b) Louis XVI; c) Napoléon III.

## Unité de révision

### Test "Régions françaises"

1. En Bretagne il y a le pays de la mer, dont le nom est ...  
a) l'Argoat; b) l'Armor; c) le Finistère.
2. Arthur Rimbaud est né ...  
a) en Provence; b) en Bretagne; c) en Champagne.
3. Le drapeau breton est ...  
a) noir et blanc; b) bleu, blanc, rouge; c) rouge et vert.
4. A l'intérieur de la cathédrale de Reims se trouve la statue de ...  
a) Jeanne d'Arc; b) la Vénus de Milo; c) Charles VII.
5. Le palais des Papes se trouve à ...  
a) Paris; b) Avignon; c) Arles.

6. Deuxième région touristique en France après Paris est ...  
a) la Champagne; b) la Bretagne; c) la Provence.
7. Coco Chanel est née à Saumur, une ville de ...  
a) Provence; b) Champagne; c) Pays de la Loire.
8. Quel mot français est d'origine bretonne?  
a) le goéland; b) le mois; c) le juillet.
9. La patrie de Mireille Mathieu est ...  
a) la Bretagne; b) la Provence; c) le Pays de la Loire.
10. F. Rabelais appelait cette ville "la ville sonnante".  
a) Rennes; b) Nantes; c) Avignon.
11. Quand a lieu le festival de Cannes?  
a) en automne; b) au printemps; c) en été.
12. Où est née Jeanne d'Arc?  
a) A Domrémy; b) à Paris; c) à Orléan.
13. La capitale de la Bretagne c'est ...  
a) Rennes; b) Brest; c) Rouen.
14. L'empire du soleil d'après Mistral est ...  
a) la Pays de la Loire; b) la Bretagne; c) la Provence.
15. La ville natale de Jules Verne est ...  
a) Nantes; b) Rennes; c) Marseille.
16. La Loire est le plus long fleuve de la France avec ses ...  
a) 1 020 km; b) 1 300 km; c) 1 000 km.
17. L'arbre symbole de la Provence:  
a) le pommier en fleurs; b) le peuplier; c) l'olivier.
18. Où se déroulent les festivals de théâtre?  
a) à Arras; b) à Avignon; c) à Arles.
19. La "perle" de la côte d'Azur est ...  
a) Nice; b) Cannes; c) Toulon.
20. Où se trouve le pont de Van Gogh?  
a) à Paris; b) à Arles; c) à Nîmes.
21. Azay le Rideau, Chenonceaux, Amboise, Blois, Chambord sont les châteaux de ...  
a) la Seine; b) la Loire; c) la Garonne.
22. La ville s'appelait Durocortorum à l'époque romaine ...  
a) Châlons-sur-Marne; b) Reims; c) Nantes.

## Connaissez-vous ces provinces de France?

1. Cette province est située au nord-ouest du pays. Son économie est très marquée par la présence de la mer. Ses habitants sont agriculteurs et marins. Le tourisme y est bien développé. Toute la côte est semée de stations balnéaires, de ports de plaisance. C'est une très vieille province, le pays des légendes et des fêtes folkloriques, le pays des grands monuments préhistoriques faits avec d'énormes pierres mises debout 3 500 et 1 000 ans avant notre ère. On les appelle les menhirs.

2. C'est une des plus grandes provinces françaises. Son climat est humide et doux. Les pommiers en fleurs sont le symbole de cette province. Elle a de nombreuses industries: alimentaire, textile, métallurgique, chimique et d'autres. Cette province française a beaucoup souffert pendant la seconde guerre mondiale. En 1944, ici ont eu lieu de durs combats quand les troupes alliées ont débarqué en France. Le nom de cette province a été adopté par les aviateurs français qui ont lutté contre les nazis sur le front soviétique.

3. On appelle cette région "le jardin de France". Son passé est riche en événements historiques. C'est ici qu'est né un art nouveau – la Renaissance qui se caractérise par son humanisme, par son amour de la vie et de la beauté. Les châteaux de cette région sont situés sur les deux rives du plus grand fleuve de France. Leur architecture frappe par leur grandeur, leur élégance et leurs vives couleurs.

4. Cette province est appelée "l'empire du soleil". Ici il y a des chaînes calcaires, des jardins et des plaines fertiles, des plateaux, de grandes forêts et montagnes. Le climat y est doux. L'été est très chaud et dure longtemps. L'hiver est tempéré. Un vent violent, froid et sec qu'on appelle "le mistral" y souffle souvent. L'agriculture y est bien développée: on y produit des vins nombreux, on y cultive du blé, on en exporte des milliers de tonnes de fruits et de légumes.

5. Cette région est une partie de la Provence qui se trouve au bord de la Méditerranée. C'est un pays au climat très doux et aux lieux pittoresques, toujours plein de touristes.

6. C'est la plus grande île de France. Elle se trouve dans la Méditerranée, à la distance de 200 km du continent. Napoléon Bonaparte y est né. L'expression "prendre le maquis", c'est-à-dire, lutter contre les occupants nazis, est née dans cette île.

7. Cette province se trouve entre les Vosges et le Rhin. Elle a une grande activité commerciale et industrielle. Sa capitale est le quatrième port fluvial de France. C'est une de deux provinces qui, depuis le Xe siècle, étaient tantôt françaises, tantôt allemandes. En 1944, après de durs combats, elle devient définitivement française.

8. Ce pays de vieilles montagnes se trouve au cœur de la France. Il représente un plateau morcelé par de profondes vallées avec des sommets, des lacs, des volcans. On l'appelle "le monde des volcans éteints". La Loire y prend sa source.

9. Cette province est une des premières régions industrielles de France. Elle est très riche en houille, en fer et en sel. La sidérurgie y occupe la première place. Les vallées de Meuse et de Moselle se trouvent dans cette province.

10. Cette région française correspond à l'ancienne Région parisienne (jusqu'en 1976). Aujourd'hui c'est une région administrative formée de huit départements: Essone, Hauts-de-Seine, Paris, Seine-et-Marne, Seine-Saint-Denis, Val-de-Marne, Val-d'Oise et Yvelines.

11. Quelles provinces françaises ont donné leur nom aux vins connus dans le monde entier?

### **Рекомендована література**

1. Carlo C. Civilisation progressive de français / C. Carlo, M. Causa. – Paris : CLE international, 2003. – 170 p.

2. Grégoire M. Grammaire progressive de français / M. Grégoire, O. Thiévenaz. – Paris : CLE international, 1997. – 256 p.

3. Le Petit Robert: Dictionnaire alphabétique et analogique de la langue française / A. Rey, J. Rey-Debove. – Paris : Le Robert, 1990. – 2 172 p.

4. Mauger G. Cours de langue et de civilisation françaises. – Paris : Librairie Hachette, 2000. – 242 p.

НАВЧАЛЬНЕ ВИДАННЯ

**Збірник текстів  
та практичних завдань  
"Регіони Франції: сутність та галузева спеціалізація"  
з навчальної дисципліни  
"ДІЛОВА ІНОЗЕМНА МОВА"  
для студентів галузі знань  
0305 "Економіка та підприємництво"  
всіх форм навчання**

*Самостійне електронне текстове мережне видання*

Укладач **Хоменко** Вікторія Володимирівна

Відповідальний за випуск *Колбіна Т. В.*

Редактор *Зобова З. В.*

Коректор *Зобова З. В.*

План 2015 р. Поз. № 137 ЕВ. Обсяг 39 с.

---

Видавець і виготівник – ХНЕУ ім. С. Кузнеця, 61166, м. Харків, просп. Леніна, 9-А

*Свідоцтво про внесення суб'єкта видавничої справи до Державного реєстру  
ДК № 4853 від 20.02.2015 р.*